




ЗАНЯТИЕ 26



















1. Запомни увиденные изображения и нарисуй их как можно точнее.





2. Посмотри на предложенные карточки. Запомни расположение точек в них. Нарисуй точки по памяти в пустых квадратах.





3. Посмотри внимательно на эти забавные рожицы 10 секунд. Постарайся их запомнить как можно лучше.



Попытайся воспроизвести забавные рожицы, изображённые на предыдущей странице.

1. Какие две рыбы в русских сказках выдают
наказание?





4. Найди настоящую тень львёнка.

А



Б



В



Г





5. Расставь значки в соответствии с образцом.

ОБРАЗЕЦ:

+	\vee	\wedge	N	\neq	\otimes	\boxtimes	\sim
•	-		○	+	∩	3	□

\wedge	\neq	+	\vee	N	+	\otimes	\sim	\wedge	+	\vee	\boxtimes	N

\neq	\wedge	+	\sim	\vee	N	\boxtimes	\neq	\vee	\otimes	\sim	+	\wedge

\otimes	+	\neq	\boxtimes	\neq	\vee	\wedge	\otimes	\sim	N	+	\wedge	\boxtimes





6. Пиши какое-нибудь слово и одновременно делай круговые движения носком правой ноги.





7. Расшифруй ребусы.

да	лк	лга	рона	лна
сна	дро	тер	тка	к
гон	за	та	нна	ня





8. Учись рассуждать.

1) В семье четверо детей: сестёр столько же, сколько братьев. Сколько сестёр?

- а) 4; б) 2; в) 3; г) 6.



2) В корзине сидят котята. У всех 3 пары ушек. Сколько котят в корзине?

- а) 3; б) 5; в) 2; г) 6.

3) На ледяной горке катались 6 ребят. Двое ушли обедать, но после обеда вернулись на горку. Сколько ребят стало на горке?

- а) 4; б) 6; в) 3; г) 8.

4) У паука 4 пары ног. Сколько ног у паука?


- а) 4; б) 6; в) 8; г) 10.





9. Графический диктант.

В дверь вошло животное,
До того голодное:
Съело веник и метлу,
Съело коврик на полу,
Занавески на окне
И картину на стене,
Со стола слизнуло справку
И опять пошло на грядку.





**СПАСИБО ЗА
ВНИМАНИЕ!**