



**«УСТНЫЙ СЧЁТ В
ПРЕДЕЛАХ ПЕРВОГО
ДЕСЯТКА.»**

Устный счёт.


$$4 + 5 =$$



9



10



повторяем состав чисел

5	
3	2
1	4
0	5
2	3
4	1

7	
5	2
3	4
6	1
4	3
2	5


8	
6	2
3	5
7	1
4	4
1	7

6	
3	3
5	1
4	2
6	0
2	4

9	
7	2
8	1
5	4
3	6
8	1



Решение примеров с неизвестным



$$6 + \underline{.3.} = 9$$

$$\underline{.10.} - 4 = 6$$

$$\underline{.4.} + 5 = 9$$

$$8 - \underline{.3.} = 5$$

$$3 + \underline{.4.} = 7$$

$$10 - \underline{.3.} = 7$$

$$\underline{.8.} + 2 = 10$$

$$\underline{.9.} - 7 = 2$$

$$4 + \underline{.5.} = 9$$

$$\underline{5.} - 3 = 2$$

$$9 - \underline{.8.} = 1$$

$$5 + \underline{.2.} = 7$$

$$\underline{4.} + 6 = 10$$

$$10 - \underline{.5.} = 5$$

$$\underline{8.} - 1 = 7$$

$$7 - \underline{.6.} = 1$$

$$\underline{.2.} + 6 = 8$$

$$1 + \underline{.9.} = 10$$

$$\underline{10.} - 8 = 2$$

Примеры на сложение и вычитание
с числом 2

$$2 + 2$$

1

3

4

5

6

7

8

9

10




Вычисли с комментированием.

$$7-2-2=3$$



$$6-2-1=3$$

$$5+1+1=7$$

$$4-1-1=2$$



Помоги Пете и Кате записать по 4 равенства к их рисункам



$$1+3=4$$

$$2+2=4$$

$$3+1=4$$


$$2+2=4$$

$$4-1=3$$

$$4-2=2$$

$$4-3=1$$

$$4-2=2$$



$$2+3=5$$

$$4+1=5$$

$$3+2=5$$

$$1+4=5$$


$$5-2=3$$

$$5-1=4$$

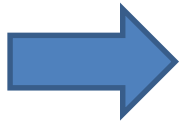
$$5-3=2$$

$$5-4=1$$





...-2




...-3




...+6



...-4



...-5



...+7



...-6

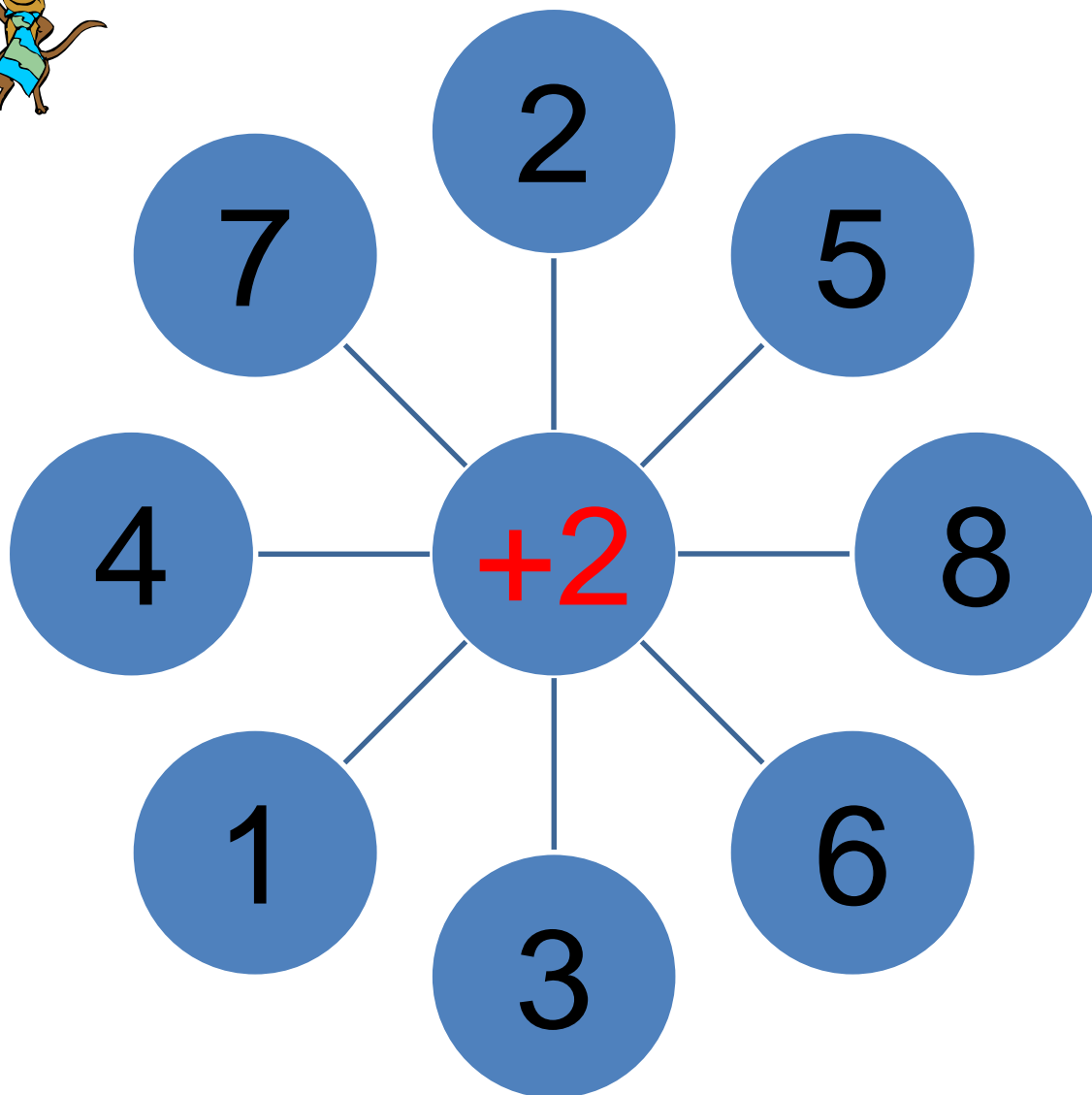


...+7






Вычислай!



Назови числа в порядке убывания



3

5

2

1

8

9

6

4

10

7

10,9,8,7,6,5,4,3,2,1

РЕШЕНИЕ
ЛОГИЧЕСКИХ
ЗАДАЧ



**Пчела летит выше, чем муха.
Муха летит выше, чем оса.
Кто летит ниже всех?**

оса

